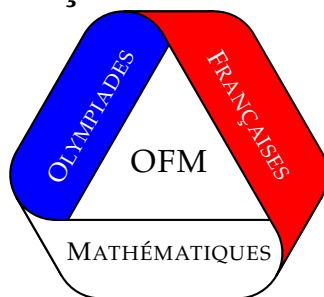


OLYMPIADES FRANÇAISES DE MATHÉMATIQUES



TEST D'ENTRAÎNEMENT (envoi 6)
Corrigé

Exercice 1. Calculer

$$\sqrt{1 + \frac{1}{1^2} + \frac{1}{2^2}} + \sqrt{1 + \frac{1}{2^2} + \frac{1}{3^2}} + \cdots + \sqrt{1 + \frac{1}{2014^2} + \frac{1}{2015^2}}.$$

Solution de l'exercice 1 On réduit au même dénominateur

$$\begin{aligned} 1 + \frac{1}{n^2} + \frac{1}{(n+1)^2} &= \frac{n^2(n+1)^2 + (n+1)^2 + n^2}{n^2(n+1)^2} \\ &= \frac{n^4 + n^2(2n+1) + n^2 + (n+1)^2}{n^2(n+1)^2} \\ &= \frac{n^4 + 2n^2(n+1) + (n+1)^2}{n^2(n+1)^2} \\ &= \frac{(n^2 + (n+1))^2}{n^2(n+1)^2} \end{aligned}$$

On en déduit que la somme recherchée vaut

$$\begin{aligned} \sum_{n=1}^{2014} \frac{n^2 + n + 1}{n(n+1)} &= \sum_{n=1}^{2014} 1 + \frac{1}{n(n+1)} \\ &= 2014 + \sum_{n=1}^{2014} \frac{1}{n(n+1)} \\ &= 2014 + \sum_{n=1}^{2014} \frac{1}{n} - \frac{1}{n+1} \\ &= 2014 + \left(1 - \frac{1}{2} + \frac{1}{2} - \frac{1}{3} + \cdots + \frac{1}{2014} - \frac{1}{2015}\right). \end{aligned}$$

On reconnaît une somme télescopique. Les termes se simplifient deux à deux, sauf 1 et $\frac{1}{2015}$, donc la somme vaut

$$2014 + 1 - \frac{1}{2015} = 2015 - \frac{1}{2015}.$$

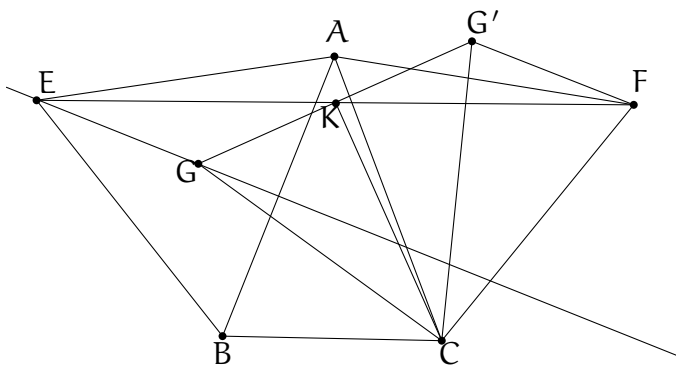
Exercice 2. Soient p et q deux nombres premiers supérieurs ou égaux à 7. Soit $x = \frac{p^{2012} + q^{2016}}{120}$. Calculer $x - [x]$, où $[x]$ désigne la partie entière de x , c'est-à-dire le plus grand entier inférieur ou égal à x .

Solution de l'exercice 2 Si a est un entier non divisible par 2, 3 et 5, on vérifie facilement que a^4 est congru à 1 modulo 3, 5 et 8. Autrement dit, $a^4 - 1$ est divisible par 3, 5 et 8, donc par $3 \times 5 \times 8 = 120$. On en déduit que p^4 et q^4 sont congrus à 1 modulo 120, donc $p^{2012} + q^{2016} \equiv 1 + 1 \equiv 2 \pmod{120}$.

On en déduit que $x - [x] = \frac{2}{120} = \frac{1}{60}$.

Exercice 3. Soit ABC un triangle. On dessine des triangles équilatéraux ABE et ACF à l'extérieur de ABC . Soit G le centre de gravité de ABE et K le milieu de $[EF]$. Déterminer les angles du triangle KCG .

Solution de l'exercice 3



Montrons que GKC est rectangle en K avec $\widehat{CGK} = 60^\circ$. Pour cela, considérons le symétrique G' de G par rapport à K : il suffit de montrer que GCG' est équilatéral.

Comme $EGFG'$ est un parallélogramme, on a $G'F = EG$, et comme G est le centre du cercle circonscrit à ABE , on a $GA = GE$, donc $GA = G'F$.

D'autre part, $AC = FC$ car AFC est équilatéral.

Enfin, $\widehat{GAC} = 30^\circ + \widehat{BAC}$ et $(\vec{FG'}, \vec{FC}) = (\vec{GE}, \vec{FC}) = (\vec{GE}, \vec{AC}) + (\vec{AC}, \vec{FC}) = 60^\circ + (\vec{AG}, \vec{AC}) - 60^\circ = (\vec{AG}, \vec{AC})$, donc GAC et $G'FC$ sont isométriques.

Or, F est obtenu à partir de A en effectuant une rotation de 60° autour de C , donc cette rotation envoie le triangle GAC sur $G'FC$. En particulier, $GC = G'C$ et $\widehat{GCG'} = 60^\circ$, ce qui conclut.

Autre méthode. Si on connaît les nombres complexes, il est facile de résoudre l'exercice par une méthode analytique systématique.

On prend un repère tel que A soit l'origine. On nomme b, c, e, f, g, k les affixes de B, C, E, F, G, K . On a alors $e = e^{-i\pi/3}b$, $f = e^{i\pi/3}c$, $k = (e + f)/2$, $g = (b + e)/3$. Il est alors facile de vérifier que $c - k = i\sqrt{3}(g - k)$, ce qui montre que $(CK) \perp (GK)$ et que $CK = GK \times \sqrt{3}$, ce qui conclut.

Exercice 4. Soit $n \geq 1$ un entier.

On considère un ensemble de $4n + 5$ points du plan, trois jamais alignés, et chacun coloré soit en rouge soit en bleu.

Prouver qu'il existe n triangles dont les sommets sont tous d'une même couleur (la même pour tous les triangles), et dont les intérieurs respectifs sont deux à deux disjoints et ne contiennent aucun point coloré.

Solution de l'exercice 4

Lemme. Soit $n \geq 3$ et $m \geq 1$ des entiers.

On considère un n -gone convexe P et m de ses points intérieurs, trois des $n + m$ points jamais alignés. Alors, on peut trianguler P en $n + 2m - 2$ triangles dont les sommets sont tous parmi les $n + m$ points, aucun de ces triangles ne contenant un des m points en son intérieur.

Preuve du lemme. On procède par récurrence sur m .

Pour $m = 1$, il suffit de joindre le point intérieur à chacun des sommets, ce qui donne une triangulation adéquate de P en k triangles.

Supposons que l'affirmation soit vraie pour la valeur m et donnons-nous $m + 1$ points intérieurs à P . Soit I un de ces points intérieurs. A l'aide des m autres points intérieurs, d'après l'hypothèse de récurrence, on peut trianguler P de la façon souhaitée en $k + 2m - 2$ triangles. Comme I est intérieur à P , il est donc intérieur à l'un de ces triangles. En joignant I à chacun des trois sommets de ce triangle, on obtient ainsi une triangulation adéquate en $k + 2m - 2 + 2 = k + 2(m + 1) - 2$ triangles, ce qui achève la preuve.

Revenons à l'exercice. Notons r (resp. b) le nombre de points rouges (resp. bleus). On a donc $r + b = 4n + 5$.

Sans perte de généralité, on peut supposer que $r \geq b$ et donc $r \geq 2n + 3$.

Soit P l'enveloppe convexe des points rouges, et on suppose que P est un k -gone. En particulier, il n'existe aucun point rouge en dehors de P , donc il y a m points rouges intérieurs à P , avec $k + m = r \geq 2n + 3$. (1)

On note w le nombre points bleus intérieurs à P .

D'après le lemme, en ne considérant que les points rouges, on peut obtenir une triangulation de P en $k + 2m - 2$ triangles à sommets rouges et ne contenant intérieurement aucun point rouge. Si au moins n de ces triangles ne contiennent aucun point bleu, c'est fini.

Sans quoi, au plus $n - 1$ des triangles à sommets rouges ne contiennent pas de point bleu. Cela assure qu'au moins $k + 2m - 2 - (n - 1) = k + 2m - (n + 1)$ triangles à sommets rouges contiennent chacun au moins un point bleu et, ces triangles étant d'intérieurs deux à deux disjoints, on a donc $w \geq k + 2m - (n + 1)$.

Soit Q l'enveloppe convexe de ces w points bleus intérieurs à P . Comme ci-dessus, on peut trianguler Q en au moins $w - 2$ triangles ne contenant aucun point bleu en leurs intérieurs.

Par l'absurde : supposons qu'au plus $n - 1$ de ces triangles bleus ne contiennent pas de point rouge.

Alors, au moins $w - 2 - (n - 1)$ triangles bleus contiennent au moins un point rouge et on a $m \geq w - (n + 1)$. Par suite, on a $m \geq k + 2m - (n + 1) - (n + 1)$, d'où $k + m \leq 2n + 2$, en contradiction avec (1).

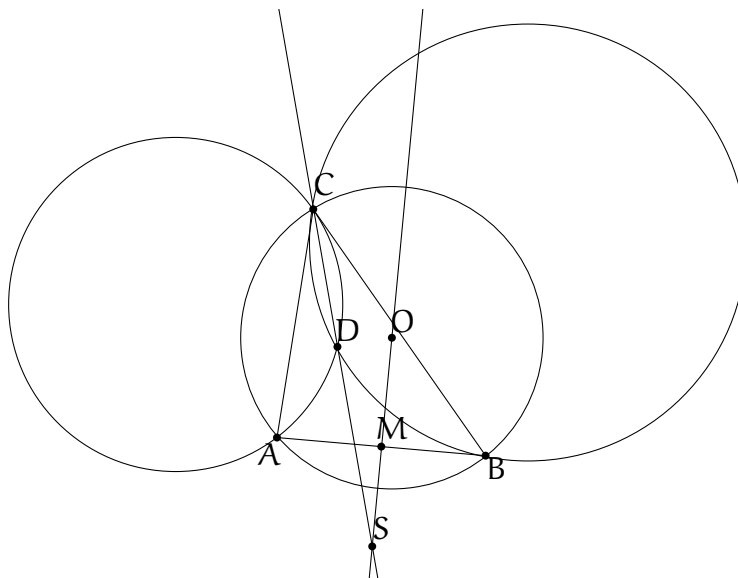
Ainsi, au moins n de ces triangles à sommets bleus ne contiennent aucun point rouge, ce qui conclut.

Exercice 5. Soit ABC un triangle non isocèle inscrit dans un cercle Γ de rayon R . Le cercle passant par A et tangent en C à $[BC]$ recoupe le cercle passant par B et tangent en C à $[AC]$ au point D .

a) Montrer que $CD \leq R$.

b) Montrer que lorsque C se déplace sur Γ , la droite (CD) passe par un point fixe.

Solution de l'exercice 5



a) On observe d'abord que $(AD, AC) = (CD, CB)$ et $(BC, BD) = (CA, CD)$, donc DAC et DCB sont directement semblables. On en déduit que $DC^2 = DA \cdot DB$.

De plus, en notant $\gamma = (\vec{CA}, \vec{CB})$, on a $(\vec{DC}, \vec{DA}) = \pi - \gamma$ et de même $(\vec{DB}, \vec{DC}) = \pi - \gamma$, donc $(\vec{DA}, \vec{DB}) = 2\gamma$. Il vient

$$\begin{aligned} AB^2 &= DA^2 + DB^2 - 2DA \cdot DB \cos 2\gamma = DA^2 + DB^2 - 2DA \cdot DB(1 - 2\sin^2 \gamma) \\ &= (DA - DB)^2 + 4DA \cdot DB \sin^2 \gamma \geq 4DA \cdot DB \sin^2 \gamma = (2DC \sin \gamma)^2. \end{aligned}$$

Or, $2R = \frac{AB}{\sin \gamma}$, donc $R \geq CD$.

b) On va montrer que (CD) passe par le point de rencontre des tangentes en A et B au cercle circonscrit, que nous appellerons S. Il est connu que (CS) est la symédiane du triangle passant par C, donc il suffit de montrer que (CD) est une symédiane.

Notons M le milieu de [AB]. Comme les aires de ACM et BCM sont égales, on a $\frac{1}{2}CA \times CM \times \sin \widehat{ACM} = \frac{1}{2}CB \times CM \times \sin \widehat{MCB}$, donc $CA \sin \widehat{ACM} = CB \sin \widehat{MCB}$.

On en déduit que si Δ est la symédiane et θ est l'angle entre (CA) et Δ , alors $\frac{\sin \theta}{\sin(\gamma - \theta)} =$

$$\frac{\sin \widehat{MCB}}{\sin \widehat{ACM}} = \frac{CA}{CB}. \text{ Il suffit donc de montrer que } \frac{\sin \widehat{ACD}}{\sin \widehat{DCB}} = \frac{CA}{CB}.$$

$$\begin{aligned} \frac{\sin \widehat{ACD}}{\sin \widehat{DCB}} &= \frac{\sin \widehat{ACD}}{AD} \times \frac{DB}{\sin \widehat{DCB}} \times \frac{DA}{DB} \\ &= \frac{\sin \widehat{CDA}}{AC} \times \frac{BC}{\sin \widehat{BDC}} \times \frac{DA}{DB}. \end{aligned}$$

Or, $\widehat{CDA} = \widehat{BDC} = \pi - \gamma$ et $\frac{BC}{AC} = \frac{DC}{DA} = \frac{DB}{DC}$, donc

$$\frac{\sin \widehat{ACD}}{\sin \widehat{DCB}} = \frac{BC}{AC} \times \frac{DA}{DC} \times \frac{DC}{DB} = \frac{DC}{DB} = \frac{CA}{CB}.$$

Exercice 6. Existe-t-il des entiers strictement positifs a et b tels que $a^n + n^b$ et $b^n + n^a$ soient premiers entre eux pour tout entier $n \geq 0$?

Solution de l'exercice 6

Par l'absurde : supposons qu'il existe de tels entiers a et b .

Par symétrie, on peut supposer que $a \geq b$.

Si $d = \text{pgcd}(a, b)$ alors, pour $n = d$, il est clair que d divise $a^d + d^b$ et $b^d + d^a$. Or ces deux nombres étant censés être premiers entre eux, c'est que $d = 1$.

Soit $N = a^a + b^b$. On a $N > 1$ donc il existe un nombre premier p qui divise N . De plus, p ne peut diviser a sans quoi il devrait diviser également b , en contradiction avec $d = 1$. Ainsi, a est inversible modulo p et il existe un entier $k \in \{0, \dots, p-1\}$ tel que $ka = b \pmod{p}$.

On choisit alors $n = k + p(a - b - k + p - 1)$. D'après le petit théorème de Fermat, il vient :

$$a^n + n^b \equiv a^k \cdot a^{a-b-k+p-1} + k^b \equiv a^{a-b} + k^b \pmod{p}$$

d'où $a^b(a^n + n^b) \equiv a^a + b^b \equiv 0 \pmod{p}$,

et, puisque p ne divise par a , on a alors $a^n + n^b \equiv 0 \pmod{p}$.

On prouve de même, on a $b^n + n^a \equiv 0 \pmod{p}$.

Mais, alors p divise à la fois $a^n + n^b$ et $b^n + n^a$, ce qui contredit qu'ils soient premiers entre eux.

Finalement, il n'existe pas de tels entiers.

Exercice 7. Les Xantiens sont les habitants, en nombre éventuellement infini, de la planète Xanta. Vis-à-vis d'eux-mêmes et de leurs semblables, les Xantiens sont capables de ressentir deux types d'émotions, qu'ils appellent *amour* et *respect*. Il a été observé que :

- Chaque Xantien aime un et un seul Xantien, et respecte un et un seul Xantien.
- Si A aime B , alors tout Xantien qui respecte A aime également B .
- Si A respecte B , alors tout Xantien qui aime A respecte également B .
- Chaque Xantien est aimé d'au moins un Xantien.

Est-il vrai que chaque Xantien respecte le Xantien qu'il aime ?

Solution de l'exercice 7

Pour chaque Xantien x , désignons respectivement par $f(x)$ et $g(x)$ les Xantiens aimés et respectés par x .

La première condition assure que l'on a bien défini des fonctions f et g de l'ensemble X des Xantiens sur lui-même.

Il s'agit de savoir si, pour tout x , on a $f(x) = g(x)$.

En fait, nous allons même prouver que, pour tout x , on a $f(x) = g(x) = x$.

Soit x un Xantien.

Il respecte $g(x)$ qui, de son côté, aime $f(g(x))$.

La seconde condition assure donc que $f(g(x)) = f(x)$ pour tout x . (1)

De même, la troisième condition conduit à $g(f(x)) = g(x)$ pour tout x . (2)

Enfin, la quatrième condition signifie que f est surjective.

Soit x un Xantien. Il existe donc un Xantien y tel que $f(y) = x$.

Or, on a $f(g(f(y))) = f(g(y))$ d'après (2)

et ainsi, d'après (1), il vient $f(f(y)) = f(y)$, ou encore $f(x) = x$.
De (1), on déduit alors immédiatement que $g(x) = x$.

Finalement, pour tout x , on a bien $f(x) = g(x) = x$.

Exercice 8. Déterminer tous les entiers strictement positifs a et b tels que $4a + 1$ et $4b - 1$ soient premiers entre eux, et tels que $a + b$ divise $16ab + 1$.

Solution de l'exercice 8 Notons (C) la condition de l'énoncé. Les entiers $4a + 1$ et $4b - 1$ sont premiers entre eux si et seulement si $4a + 1$ est premier avec $(4a + 1) + (4b - 1) = 4(a + b)$. Or, $4a + 1$ est impair donc il est automatiquement premier avec 4. On en déduit que $4a + 1$ et $4b - 1$ sont premiers entre eux si et seulement si $4a + 1$ est premier avec $a + b$.

D'autre part, $16ab + 1 = 16a(a + b) + (1 - 16a^2) = 16a(a + b) - (4a - 1)(1 + 4a)$, donc $a + b$ divise $16ab + 1$ si et seulement si $a + b$ divise $(4a - 1)(1 + 4a)$. Or, si $a + b$ est premier avec $1 + 4a$ alors ceci équivaut à $a + b \mid 4a - 1$.

On en déduit que (C) équivaut à ce que $\text{pgcd}(a + b, 4a + 1) = 1$ et $a + b \mid 4a - 1$.

D'autre part, montrons que si $a + b \mid 4a - 1$ alors on a automatiquement $\text{pgcd}(a + b, 4a + 1) = 1$.

En effet, si un nombre premier p divise $a + b$ et $4a + 1$, alors il divise $4a - 1$ et $4a + 1$, donc il divise $(4a + 1) - (4a - 1) = 2$. Il vient $p = 2$, puis $2 \mid 4a - 1$. Impossible.

Finalement, (C) équivaut à $a + b \mid 4a - 1$.

Or, $a + b > a > \frac{4a - 1}{4}$, donc $a + b \mid 4a - 1$ ne peut se produire que si $a + b = 4a - 1$ ou

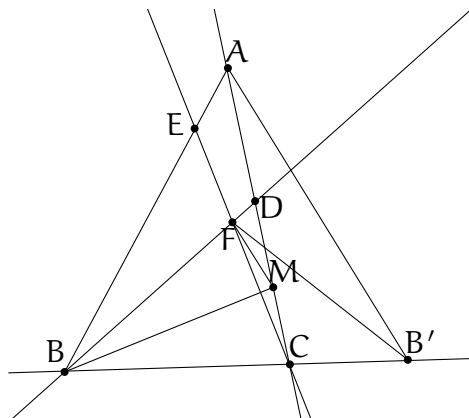
$$a + b = \frac{4a - 1}{2} \text{ ou } a + b = \frac{4a - 1}{3}.$$

Le deuxième cas ne peut pas se produire car $4a - 1$ est impair.

(C) équivaut donc à $a + b = 4a - 1$ ou $a + b = \frac{4a - 1}{3}$, c'est-à-dire $b = 3a - 1$ ou $a = 3b + 1$.

Exercice 9. Soit ABC un triangle tel que $\widehat{A} = 40^\circ$ et $\widehat{B} = 60^\circ$. Soient D et E des points de $[AC]$ et $[AB]$ tels que $\widehat{CBD} = 40^\circ$ et $\widehat{ECB} = 70^\circ$. On note F l'intersection de (BD) et (CE) . Montrer que $(AF) \perp (BC)$.

Solution de l'exercice 9



On a $\widehat{BFC} = 180^\circ - \widehat{CBF} - \widehat{FCB} = 180^\circ - 40^\circ - 70^\circ = 70^\circ = \widehat{FCB}$ donc BCF est isocèle en B . Il vient $BC = BF$.

Soit M le point d'intersection entre la bissectrice de \widehat{CBF} et (AC) . On a $\widehat{BMA} = 40^\circ = \widehat{BAM}$ donc $MA = MB$.

D'autre part, $\widehat{BMC} = 180^\circ - \widehat{CBM} - \widehat{MCB} = 180^\circ - 20^\circ - 80^\circ = 80^\circ = \widehat{MCB}$ donc $BC = BM$.
On déduit de ce qui précède que $MA = BF$.

Soit $B' \in (BC)$ tel que ABB' est équilatéral. Soit Δ la bissectrice de $\widehat{B'BA}$. Comme $BF = BM$ et $\widehat{FBA} = \widehat{CBM}$, les points M et F sont symétriques par rapport à Δ . Or, A et B' sont aussi symétriques par rapport à Δ , donc $MA = FB'$.

Finalement, $FB' = FB$, donc F appartient à la médiatrice de $[BB']$, qui est aussi la hauteur (AF) du triangle ABB' .

Autre solution. Notons H le projeté de F sur $[BC]$ et H' le projeté de A sur $[BC]$. Il s'agit de montrer que $H = H'$. Pour cela, il suffit de voir que $BH = BH'$.

On a $BH' = AB \cos 60$ et $BH = BF \cos 40 = BC \cos 40$. Comme $\frac{AB}{BC} = \frac{\sin 80}{\sin 40}$, il suffit de montrer que $\sin 80 \cos 60 = \sin 40 \cos 40$, c'est-à-dire (compte tenu de $\cos 60 = \frac{1}{2}$) que $\sin 80 = 2 \sin 40 \cos 40$, ce qui est vrai d'après la formule générale $\sin 2x = 2 \sin x \cos x$.

Exercice 10. Pour tout entier strictement positif x , on note $S(x)$ la somme des chiffres de son écriture décimale.

Soit $k > 0$ un entier. On définit la suite (x_n) par $x_1 = 1$ et $x_{n+1} = S(kx_n)$ pour tout $n > 0$.

Prouver que $x_n < 27\sqrt{k}$, pour tout $n > 0$.

Solution de l'exercice 10

Lemme. Pour tout entier $s \geq 0$, on a $10^s \geq (s+1)^3$.

Preuve du lemme. On raisonne par récurrence sur s .

Pour $s = 0$, on a $10^0 = 1 = (0+1)^3$.

Supposons l'inégalité vraie pour la valeur s . Alors :

$$\begin{aligned} 10^{s+1} &\geq 10(s+1)^3 \text{ d'après l'hypothèse de récurrence} \\ &= 10s^3 + 30s^2 + 30s + 10 \\ &\geq s^3 + 6s^2 + 12s + 8 \\ &= (s+2)^3, \text{ ce qui achève la preuve.} \end{aligned}$$

Si $x > 0$ est un entier dont l'écriture décimale utilise $s+1$ chiffres, on a $S(x) \leq 9(s+1)$ et $10^s \leq x < 10^{s+1}$. Or, d'après le lemme, on a $s+1 \leq 10^{\frac{s}{3}}$, donc $s+1 \leq x^{\frac{1}{3}}$ et ainsi $S(x) \leq 9x^{\frac{1}{3}}$.

Montrons maintenant par récurrence que $x_n < 27\sqrt{k}$ pour tout n . L'assertion est claire pour $n = 1$. Supposons $x_n < 27\sqrt{k}$, alors $x_{n+1} = S(kx_n) \leq 9(kx_n)^{\frac{1}{3}} < 9(27k\sqrt{k})^{\frac{1}{3}} = 9 \times 3 \times \sqrt{k} = 27\sqrt{k}$, d'où le résultat.

Exercice 11. Soient a, b, c trois nombres réels strictement positifs tels que $a+b+c = 9$. Montrer que

$$\frac{a^3 + b^3}{ab + 9} + \frac{b^3 + c^3}{bc + 9} + \frac{c^3 + a^3}{ca + 9} \geq 9.$$

Solution de l'exercice 11 On cherche une minoration de la forme $\frac{a^3 + b^3}{ab + 9} \geq u(a+b) + v$, c'est-à-dire $f(a) \geq 0$ où $f(a) = a^3 + b^3 - (u(a+b) + v)(ab + 9)$.

En sommant les trois inégalités, on en déduirait $\frac{a^3+b^3}{ab+9} + \frac{b^3+c^3}{bc+9} + \frac{c^3+a^3}{ca+9} \geq 2u(a+b+c) + 3v = 3(6u+v)$, donc il suffit que $6u+v = 3$.

D'autre part, si une telle minoration existe, comme l'inégalité devient une égalité lorsque $a = b = c = 3$, on doit avoir $f(3) = 0$ si $b = 3$. Comme de plus $f(a) \geq 0$ pour tout a , on doit nécessairement avoir $f'(3) = 0$ pour $b = 3$.

Ceci impose la condition $0 = f'(3) = 27 - 18u - (6u+v) \times 3 = 18(1-u)$, donc $u = 1$ et $v = -3$.

Montrons donc $\frac{a^3 + b^3}{ab + 9} \geq (a + b) - 3$. Comme $a^3 + b^3 \geq \frac{(a + b)^3}{4}$ et $ab + 9 \leq (\frac{a+b}{2})^2 + 9$, il suffit de montrer que

$$\frac{s^3}{s^2 + 36} \geq s - 3$$

où $s = a + b$. On réduit au même dénominateur ; l'inégalité se simplifie en $3s^2 - 36s + 108 \geq 0$, ou encore en $3(s - 6)^2 \geq 0$, ce qui est vrai.

Exercice 12. Déterminer tous les entiers $n > 0$ ayant la propriété suivante : "tout nombre strictement positif qui s'écrit comme la somme des carrés de n entiers multiples de n peut également s'écrire comme la somme des carrés de n entiers dont aucun n'est un multiple de n ".

Solution de l'exercice 12

Un entier n ayant la propriété désirée sera dit *bon*.

Soit $n \geq 2$ un entier bon. Alors $2n$ est également bon : en effet, soit $m = 2n$ et soit x_1, \dots, x_m des entiers divisibles par m . Si deux de ces entiers sont non nuls, on peut supposer sans perte de généralité qu'il s'agit de x_1 et x_m . Puisque n est bon, il existe alors des entiers y_i non divi-

sibles par n (donc non divisibles par m) tels que $\sum_{i=1}^n x_i^2 = \sum_{i=1}^n y_i^2$ et $\sum_{i=n+1}^{2n} x_i^2 = \sum_{i=n+1}^{2n} y_i^2$. Ainsi,

$$\sum_{i=1}^m x_i^2 = \sum_{i=1}^m y_i^2 \text{ avec chaque } y_i \text{ non divisible par } m.$$

Si un et un seul des x_i est non nul, alors $\sum_{i=1}^m x_i^2$ est de la forme $(2a)^2 = a^2 + a^2 + a^2 + a^2$ où $a > 0$ est divisible par n et on raisonne de la même manière.

Lemme. Soit $n > 0$ un entier impair et x_1, \dots, x_n des entiers dont au moins un n'est pas divisible par n . Alors il existe des entiers y_1, \dots, y_n non divisibles par n tels que $\sum_{i=1}^n (nx_i)^2 = \sum_{i=1}^n y_i^2$.

Preuve du lemme. Sans perte de généralité, on peut supposer que x_1 n'est pas divisible par n . On pose $X = 2 \sum_{i=1}^n x_i$.

Si n divise X , on remplace x_1 par $-x_1$. La nouvelle valeur X' vérifie $X' = X - 4x_1$. Comme n divise X mais pas $4x_1$ (rappelons que n est supposé impair), il ne divise pas X' . Ainsi, sans perte de généralité, on peut supposer que n ne divise pas X .

Il est facile de vérifier que $\sum_{i=1}^n (nx_i)^2 = \sum_{i=1}^n (X - nx_i)^2$. En posant $y_i = X - nx_i$ pour tout i , la conclusion souhaitée en découle.

On peut maintenant prouver que tout $n \geq 3$ impair est bon. En effet, si $a > 0$ est un entier qui peut s'écrire comme la somme de n carrés d'entiers tous divisibles par n alors, en considérant la plus grande puissance de n qui divise ces entiers, il existe donc un entier $r > 0$ et des entiers

$$x_1, \dots, x_n \text{ dont au moins un n'est pas divisible par } n \text{ tels que } a = \sum_{i=1}^n (n^r x_i)^2.$$

D'après le lemme, il existe des entiers y_1, \dots, y_n non divisibles par n tels que $\sum_{i=1}^n (nx_i)^2 = \sum_{i=1}^n y_i^2$,

et donc $\sum_{i=1}^n (n^r x_i)^2 = \sum_{i=1}^n (n^{r-1} y_i)^2$. Ainsi, en appliquant le lemme r fois de suite, on est assuré

de l'existence d'entiers z_1, \dots, z_n non divisibles par n tels que $a = \sum_{i=1}^n z_i^2$. Cela prouve que n est bon.

Puisque le double de tout entier bon est bon, tout entier qui n'est pas une puissance de 2 est bon.

On prouve maintenant que 8 est bon : En effet, si a est la somme de 8 carrés d'entiers divisibles par 8 alors a est divisible par 64. En particulier $a \geq 64$ et, d'après le théorème des quatre carrés de Lagrange, il existe des entiers x_1, x_2, x_3, x_4 tels que $a = 1^2 + 4^2 + 4^2 + 4^2 + x_1^2 + x_2^2 + x_3^2 + x_4^2$. Notons que, puisque $a \equiv 0 \pmod{8}$, on a $x_1^2 + x_2^2 + x_3^2 + x_4^2 \equiv 7 \pmod{8}$. Or, un carré étant congru à 0, 1 ou 4 modulo 8, la seule façon d'obtenir une somme de quatre carrés congrue à 7 modulo 8 est d'avoir 1, 1, 1, 4 à l'ordre près. Ainsi, aucun des x_i n'est divisible par 8, ce qui conclut.

Enfin, on prouve que 4 n'est pas bon. Pour cela, il suffit de constater que $32 = 4^2 + 4^2 + 0^2 + 0^2$. D'autre part, pour obtenir $32 = x_1^2 + x_2^2 + x_3^2 + x_4^2$, on doit avoir $|x_i| \leq 5$ pour tout i . De plus, si l'on veut éviter les multiples de 4, il ne reste plus que $|x_i| = 1, 2, 3$ ou 5. Or, comme ci-dessus en raisonnant modulo 8, la seule possibilité est d'avoir $|x_i| = 2$ pour tout i . Mais, on a $32 \neq 2^2 + 2^2 + 2^2 + 2^2$, ce qui assure que 4 n'est pas bon.

Ainsi, tout diviseur de 4 ne peut être bon.

Finalement, tous les entiers $n > 0$ sont bons sauf 1, 2 et 4.